



Vad vet du om insjöar?

Tävlingen gäller endast insjöar i Europa. Det finns större vattensamlingar men då är det dammar. Din uppgift är att försöka ordna nedanstående sjöar i storleksordning och i vilket land de ligger. De är listade i bokstavsordning och du ska sätta rätt siffra över namnet där nr 1 är störst och nr 12 är den minsta sjön och landet i rutan under namnet på sjön. Du kan få 2 poäng för varje fråga. Om fler får lika många rätt så vinner den som svarar rätt eller kommer närmast på utslagsfrågan nedan.


LYCKA TILL




Beloje Ozer



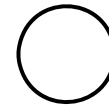
Enare Träsk



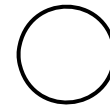
Ilmen




Ladoga




Mälaren




Onega




Peipus




Päijänne




Saimen



Topozero



Vänern



Vättern

De länder som förekommer är Estland, Finland, Ryssland och Sverige.

Utslagsfråga:

Volga är Europas längsta flod. Den har sina källor i Valdajhöjderna (cirka 210 meter över havet) i Ryssland, och mynnar ut i Kaspiska havet.

Hur lång tror du att Volga är i kilometer? Jag tror att Volga är kilometer lång.

Namn: